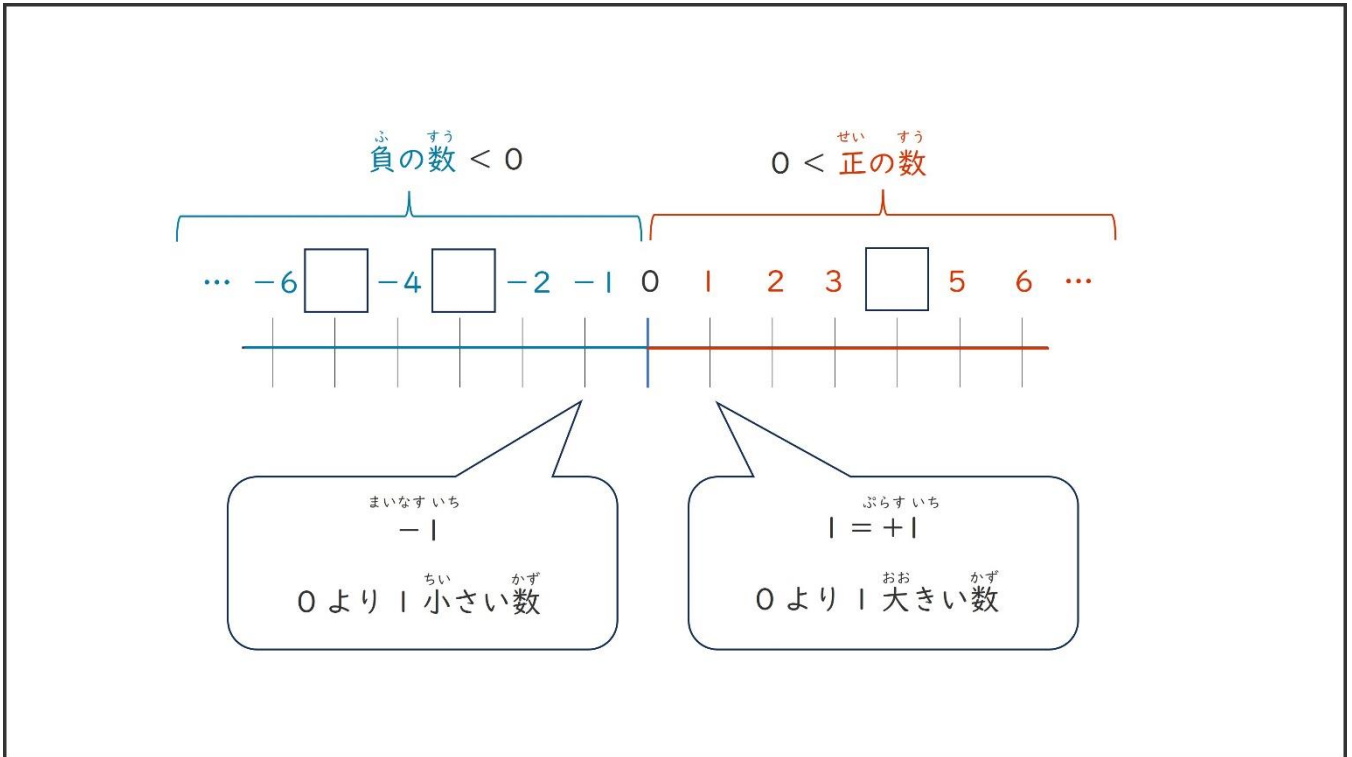


せい すう ふ すう
正の数・負の数①

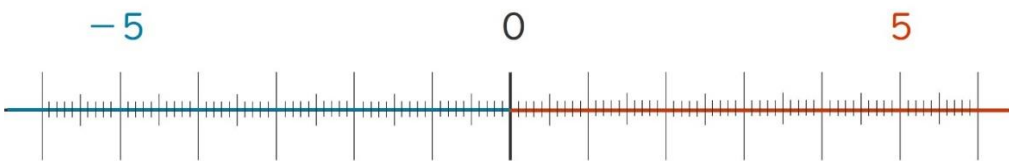


つぎ かず
次の数はどこですか。●をかきましょう。

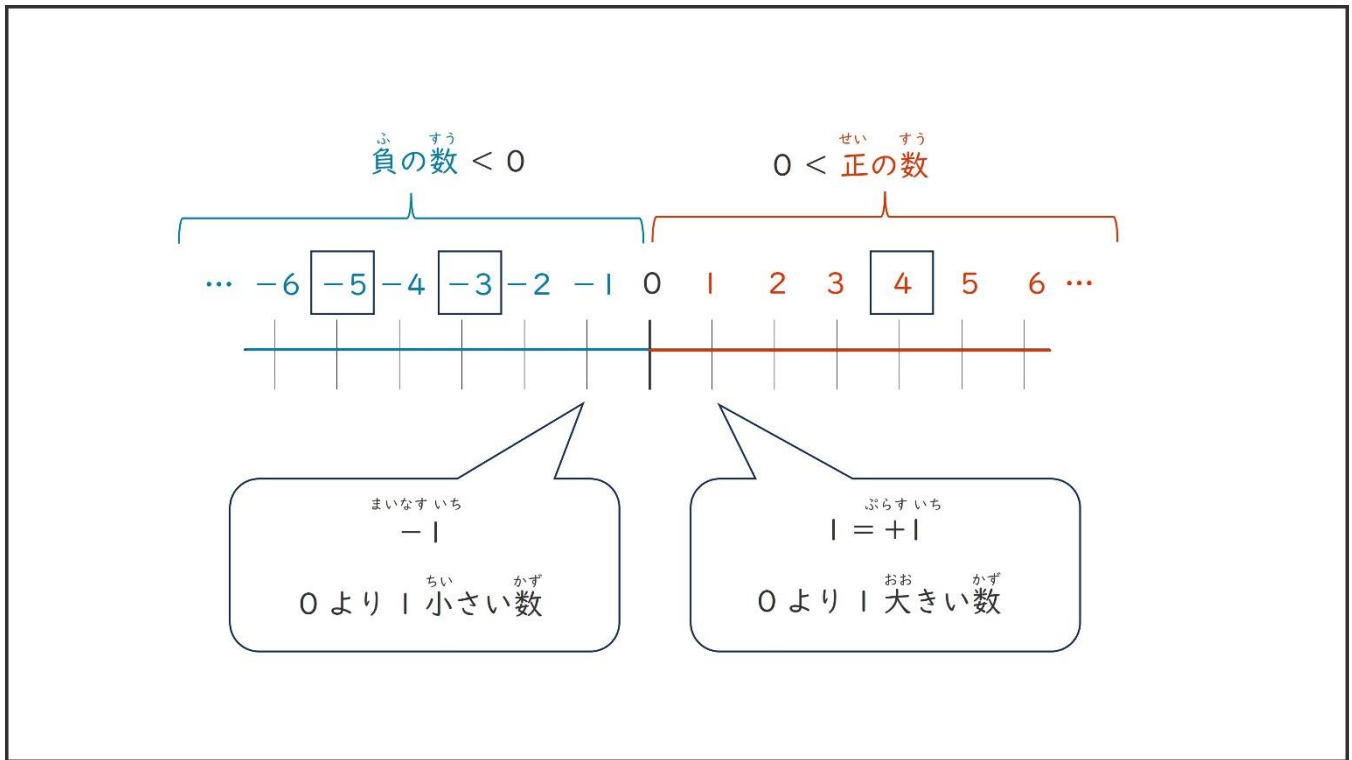
(1) -4



(2) -2.8



せい すう ふ すう こた
 正の数・負の数① 答え

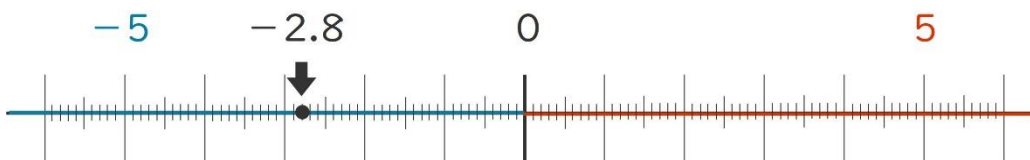


つぎ かず
 次の数はどこですか。●をかきましょう。

(1) -4



(2) -2.8

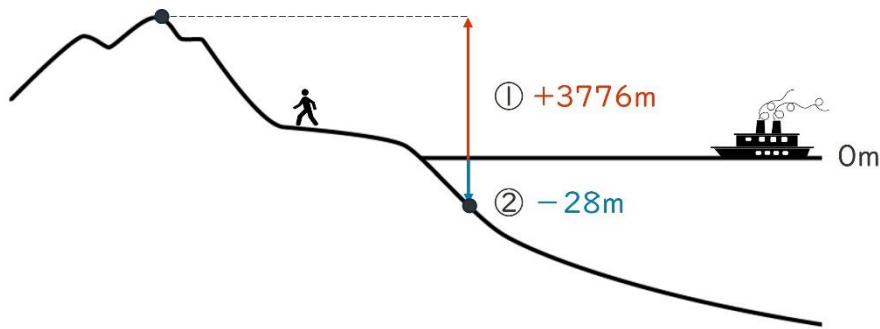


せい すう ふ すう
正の数・負の数②

つか たか あらわ
+、-を使って、高さを表しましょう。

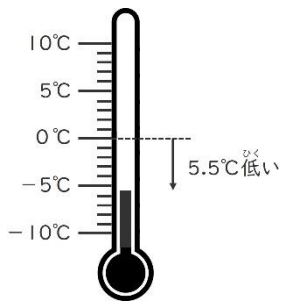
① 3776mの山 m

② 深さ28mの海底 m



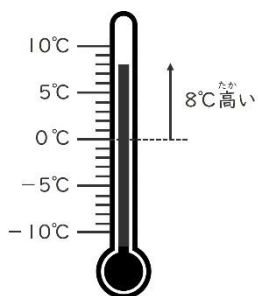
つか たか あらわ
+、-を使って、高さを表しましょう。

(1) 0°Cより、5.5°C 低い温度



こたえ : _____ °C

(2) 0°Cより、8°C 高い温度



こたえ : _____ °C

せい すう ふ すう こた
正の数・負の数② 答え

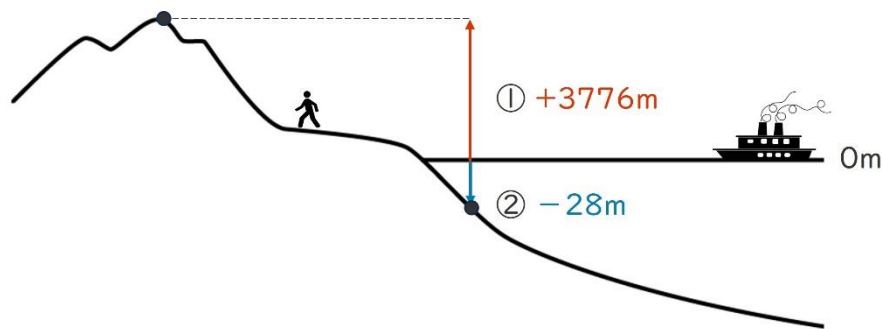
＋、－を使って、高さたかを表あらわしましょう。

① 3776mやまの山

+3776	m
-------	---

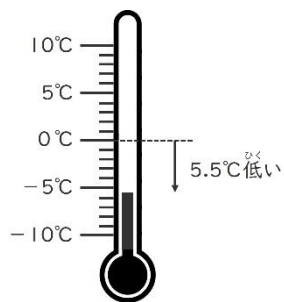
② 深さ28mかいていの海底

-28	m
-----	---



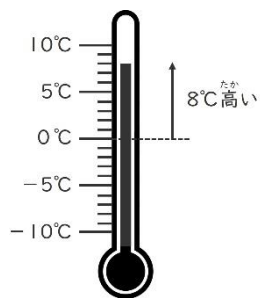
＋、－を使って、高さたかを表あらわしましょう。

(1) 0℃より、5.5℃ ひく おんど低い温度



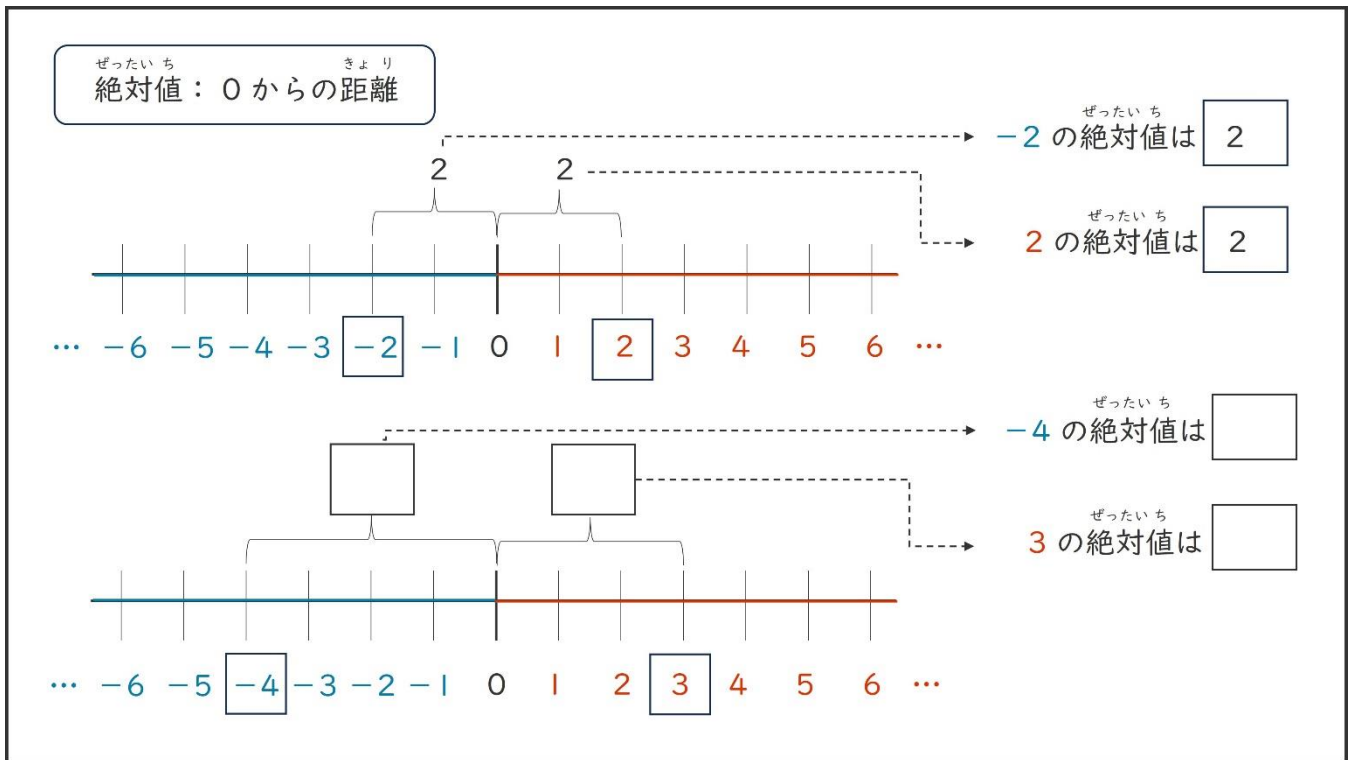
こた
 答え： -5.5 °C

(2) 0℃より、8℃ たか おんど高い温度



こた
 答え： +8 °C

せい すう ふ すう
正の数・負の数③



ぜったいち
絶対値をもとめましょう。

(1) +4

こた
答え： _____

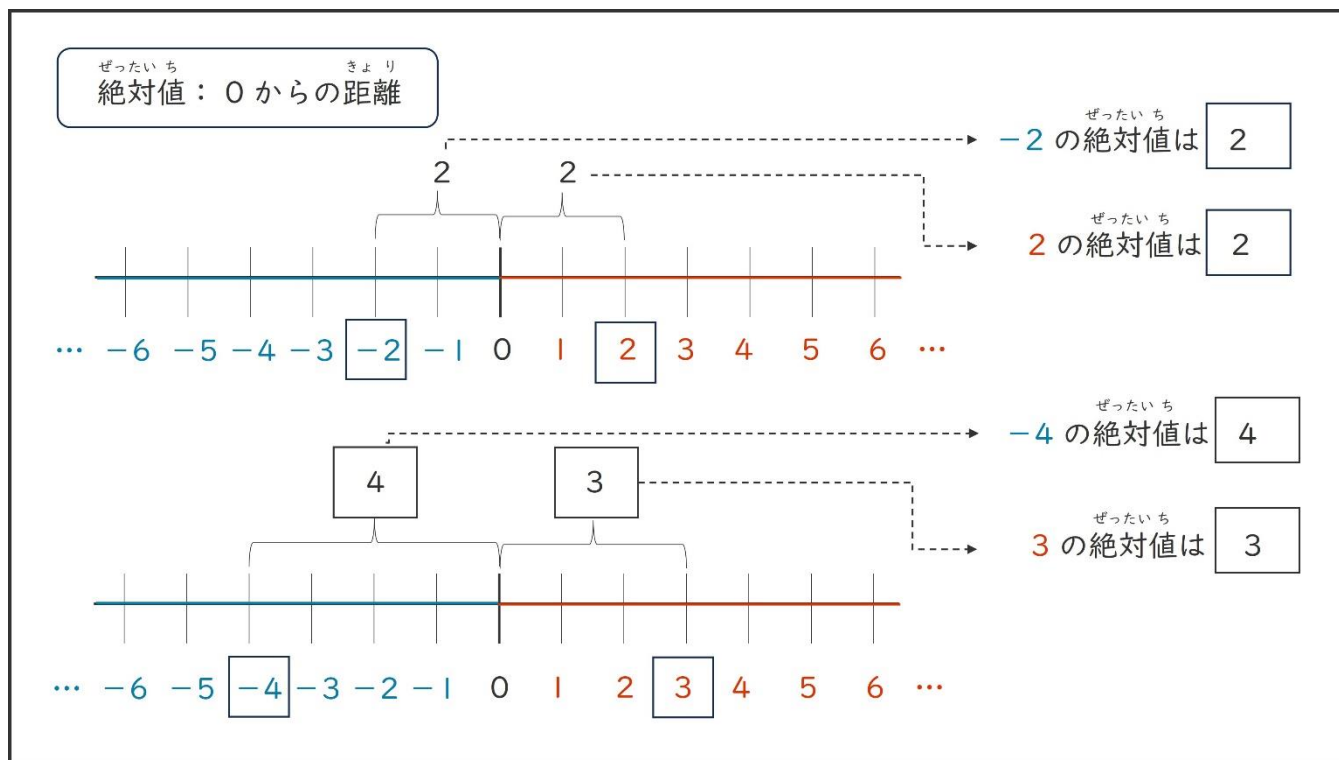
(2) -12

こた
答え： _____

(3) +3.3

こた
答え： _____

せい すう ふ すう こた
 正の数・負の数③ 答え



ぜったいち
 絶対値をもとめましょう。

(1) +4

こた
 答え： 4

(2) -12

こた
 答え： 12

(3) +3.3

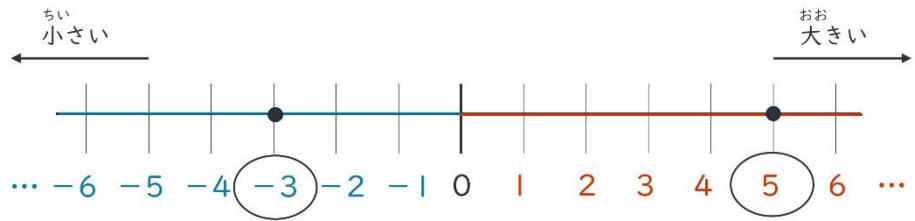
こた
 答え： 3.3

せい すう ふ すう
 正の数・負の数④

数の大小を不等号 (<, >) で表しましょう。

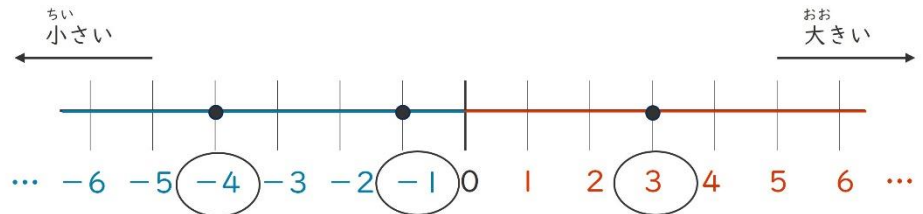
$$-3 \boxed{<} 5$$

$$5 \boxed{>} -3$$



$$-4 \boxed{\phantom{<}} -1 \boxed{\phantom{<}} 3$$

$$3 \boxed{\phantom{<}} -1 \boxed{\phantom{<}} -4$$



かず だいしょう ふとうごう
 数の大小を不等号 (<) で表しましょう。

(1) $-4, -2$

こた
 答え: _____

(2) $-0.2, -1$

こた
 答え: _____

(3) $0, 3, -5$

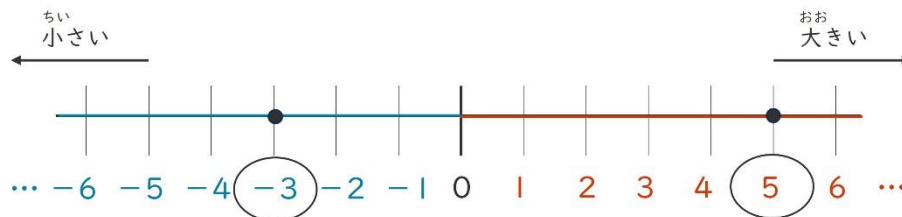
こた
 答え: _____

せい すう ふ すう こた
 正の数・負の数④ 答え

数の大小を不等号 (<, >) で表しましょう。

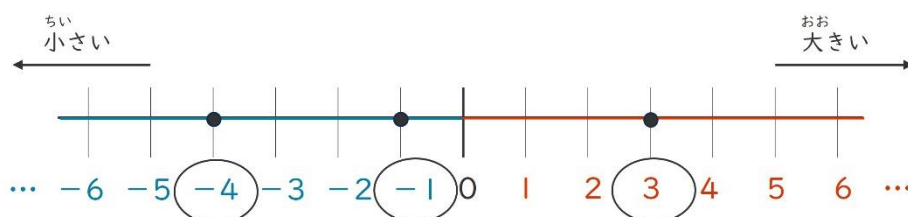
$$-3 < 5$$

$$5 > -3$$



$$-4 < -1 < 3$$

$$3 > -1 > -4$$



かず だいしょう ふとうごう
 数の大小を不等号 (<) で表しましょう。

(1) -4, -2

こた
 答え： -4 < -2

(2) -0.2, -1

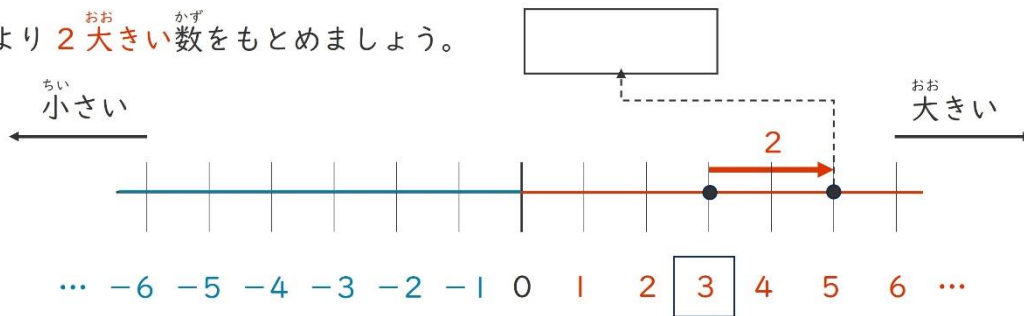
こた
 答え： -1 < -0.2

(3) 0, 3, -5

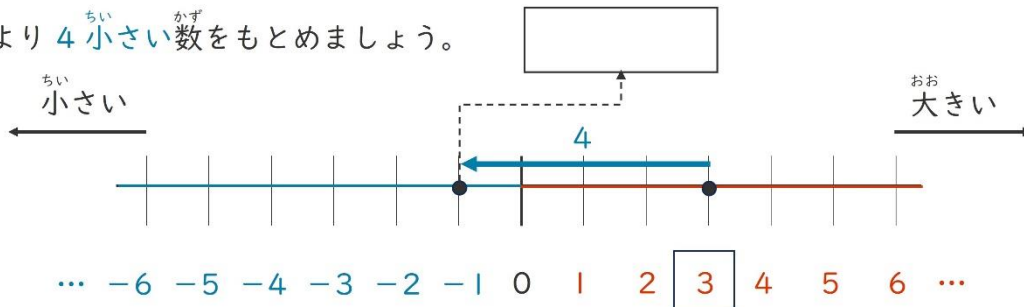
こた
 答え： -5 < 0 < 3

せい すう ふ すう
 正の数・負の数⑤

① 3より2おお大きいかず数をもとめましょう。



② 3より4ちい小さいかず数をもとめましょう。



つぎ かず
 次の数をもとめましょう。

(1) 3より1おお大きいかず数

こた
 答え： _____

(2) 3より5ちい小さいかず数

こた
 答え： _____

(3) -3より1おお大きいかず数

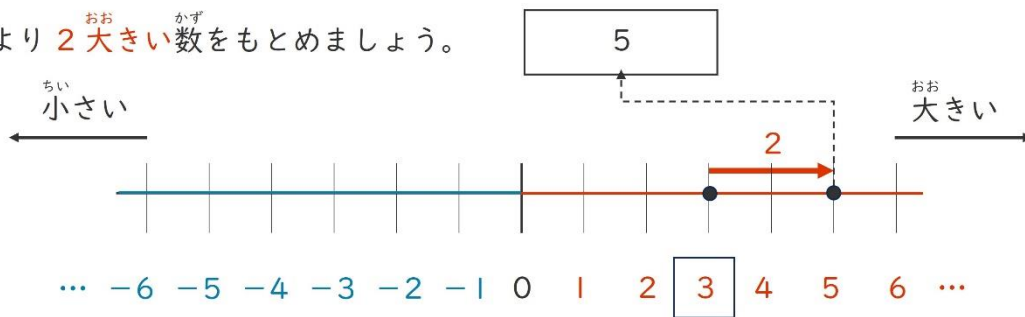
こた
 答え： _____

(4) -3より5ちい小さいかず数

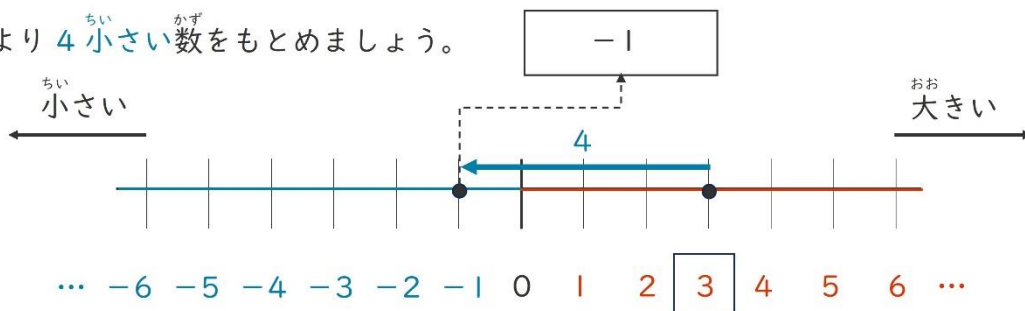
こた
 答え： _____

せい すう ふ すう こと
 正の数・負の数⑤ 答え

① 3より2おお大きいかず数をもとめましょう。



② 3より4ちい小さいかず数をもとめましょう。



つぎ かず
 次の数をもとめましょう。

(1) 3より1おお大きいかず数

こた
 答え： 4

(2) 3より5ちい小さいかず数

こた
 答え： -2

(3) -3より1おお大きいかず数

こた
 答え： -2

(4) -3より5ちい小さいかず数

こた
 答え： -8