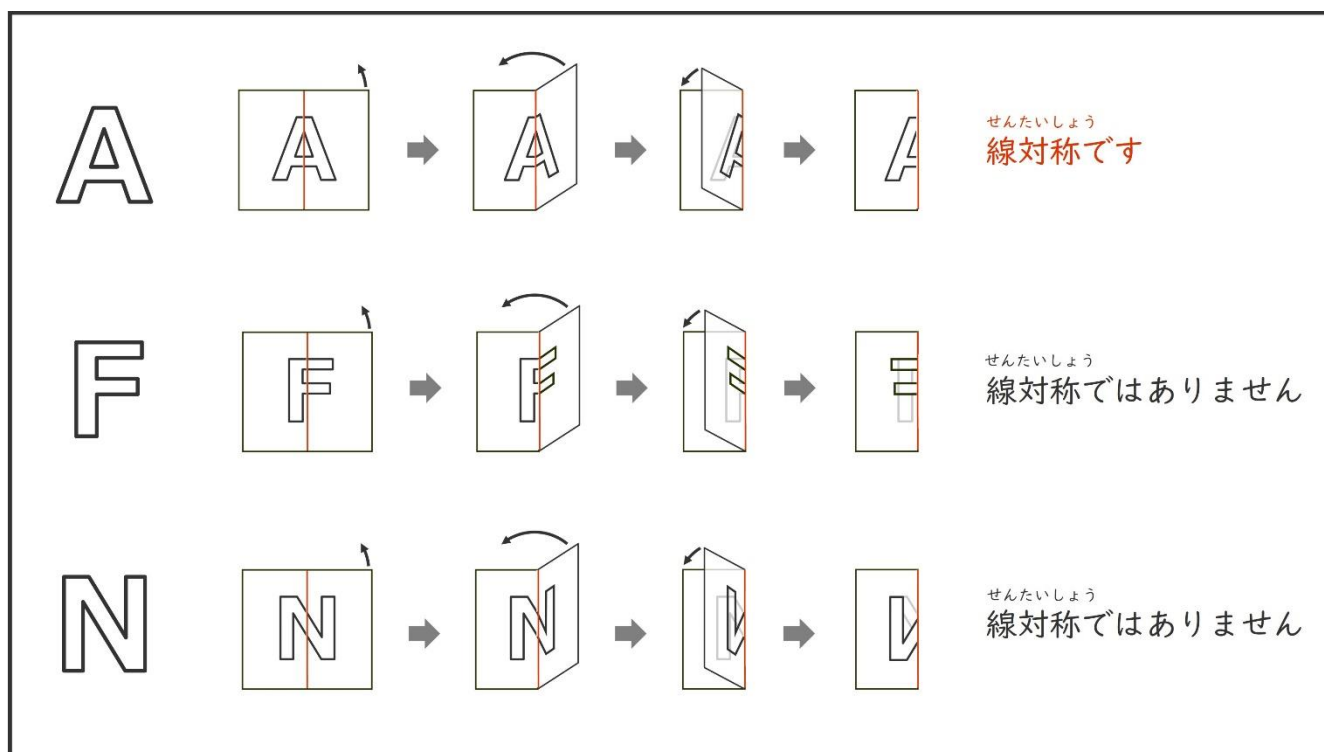


たいしょう ずけい  
対称な図形①



せんたいしょう  
線対称なもの有哪些ですか。


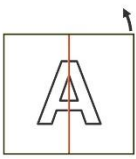
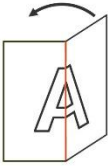



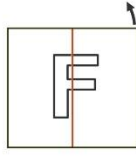
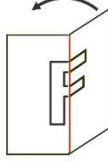



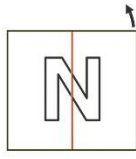



(1)

A F M  
N O R

(2)


K L P  
S U Z

たいしょう ずけい こた  
 対称な図形① 答え

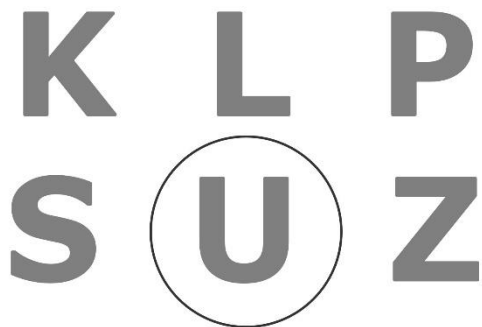
		→		→		→		せんたいしょう 線対称です
		→		→		→		せんたいしょう 線対称ではありません
		→		→		→		せんたいしょう 線対称ではありません

せんたいしょう  
線対称なものはどれですか。

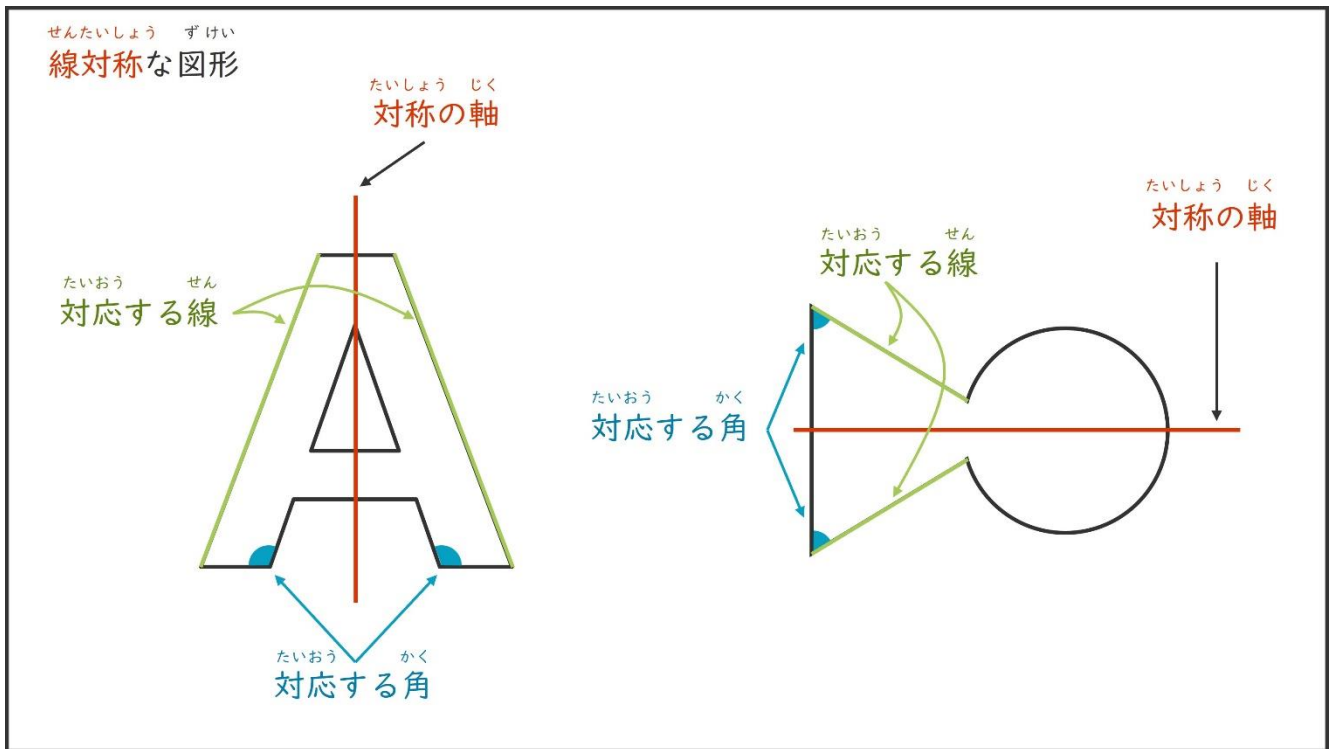
(1)



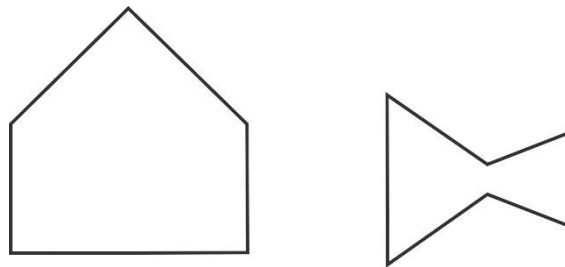
(2)



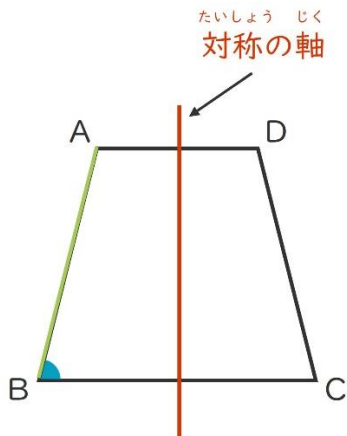
たいしょう ずけい  
対称な図形②



(1) たいしょう じく  
対称の軸をかきましょう。



(2) ず み こと  
図を見て答えましょう。



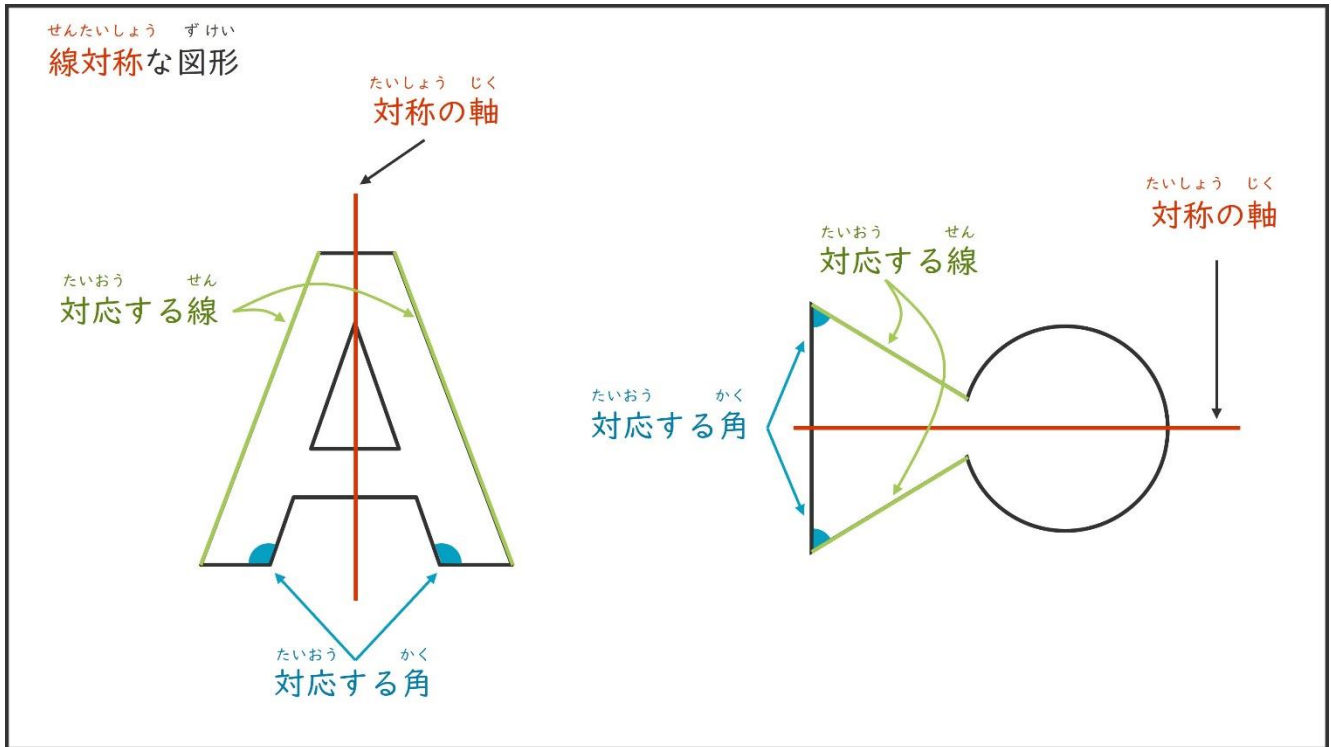
かく たいおう かく  
① 角B と対応する角はどれですか。

かく  
角

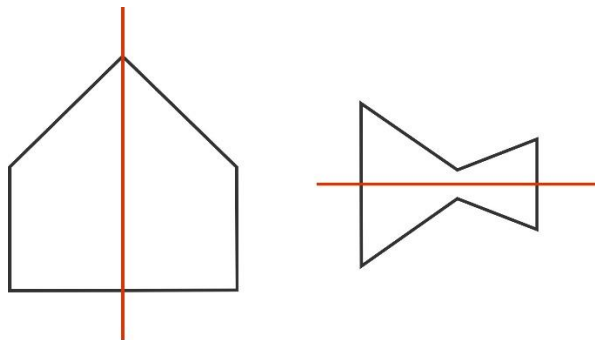
ちやくせん たいおう せん  
② 直線AB と対応する線はどれですか。

ちやくせん  
直線

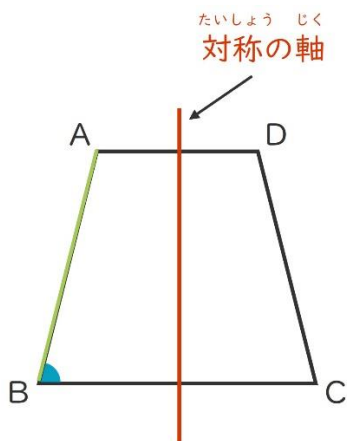
たいしょう ずけい ことた  
**対称な図形② 答え**



(1) <sup>たいしょう じく</sup>対称の軸をかきましょう。



(2) 図を見て答えましょう。



① <sup>かく</sup>角B と <sup>たいおう かく</sup>対応する角はどれですか。

<sup>かく</sup>角 C

② <sup>ちよくせん</sup>直線AB と <sup>たいおう せん</sup>対応する線はどれですか。

<sup>ちよくせん</sup>直線 DC

たいしょう ずけい  
対称な図形③

たいしょう じく  
対称の軸

たいおう てん  
対応する点

すいちよく  
垂直 (90°)

なが ひと  
長さが等しい

たいおう てん  
A に対応する点は K

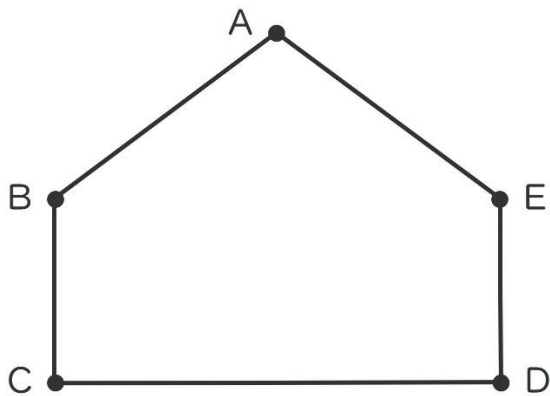
たいおう てん  
B に対応する点は J

たいおう てん  
C に対応する点は

に対応する点は H

たいおう てん  
E に対応する点は G

たいおう てん  
対応する点はどれですか。



たいおう てん  
B に対応する点は

たいおう てん  
C に対応する点は

たいしょう ずけい 対称な図形③ 答え

たいしょう じく 対称の軸

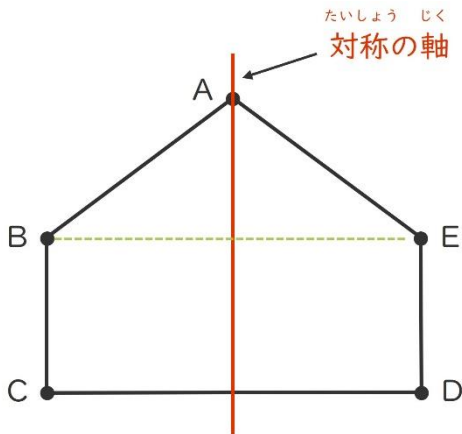
たいおう てん 対応する点

すいちよく 垂直 (90°)

なが ひと 長さが等しい

A	に対応する点	は	K
B	に対応する点	は	J
C	に対応する点	は	I
D	に対応する点	は	H
E	に対応する点	は	G

たいおう てん 対応する点はどれですか。



B に対応する点は

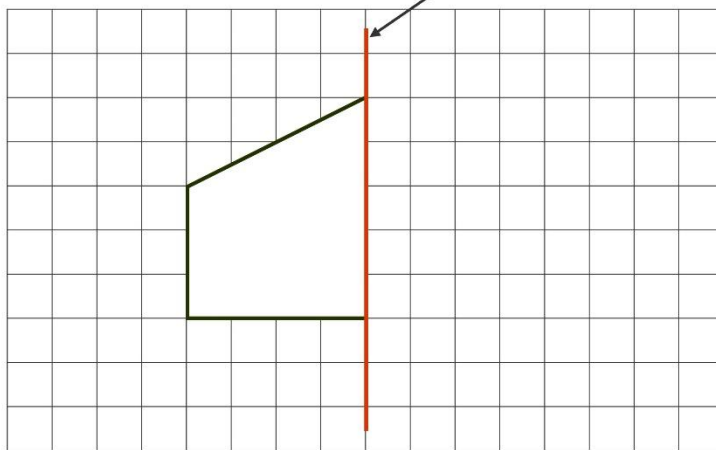
C に対応する点は

たいしょう ずけい  
対称な図形④

せんたいしょう ずけい

線対称な図形をかきましょう。

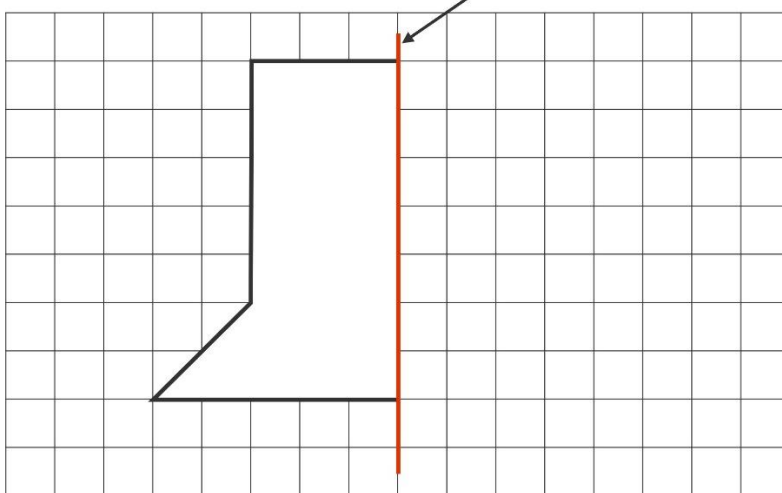
たいしょう じく  
対称の軸



せんたいしょう ずけい

線対称な図形をかきましょう。

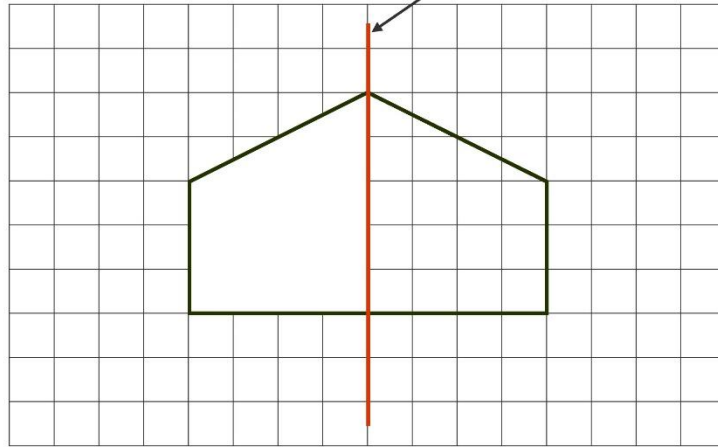
たいしょう じく  
対称の軸



たいしょう ずけい  
対称な図形④ 答え

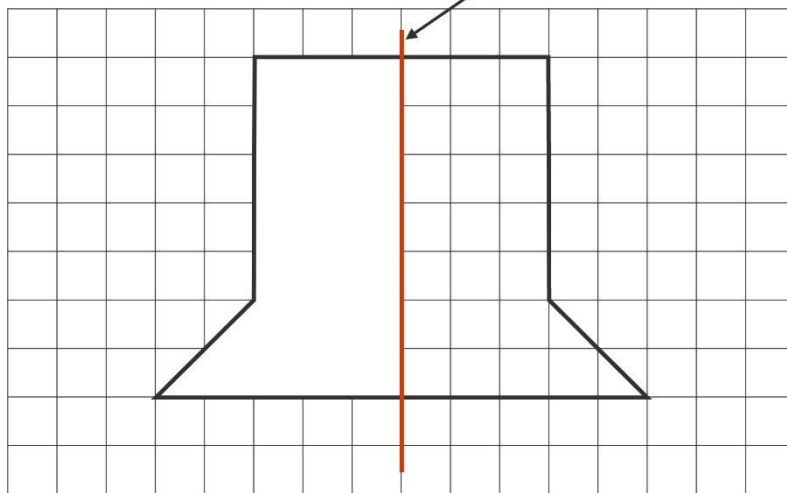
せんたいしょう ずけい  
線対称な図形をかきましょう。

たいしょう じく  
対称の軸



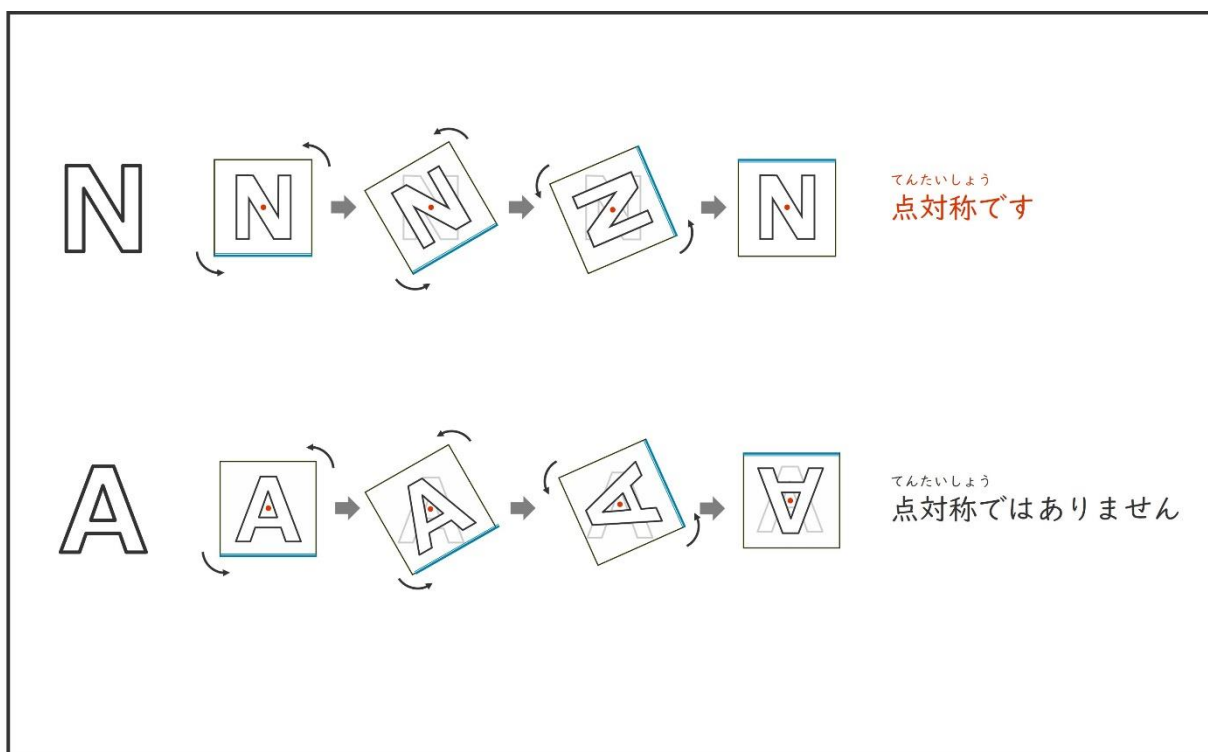
せんたいしょう ずけい  
線対称な図形をかきましょう。

たいしょう じく  
対称の軸





たいしょう ずけい  
対称な図形⑤



てんたいしょう  
点対称なものどれですか。

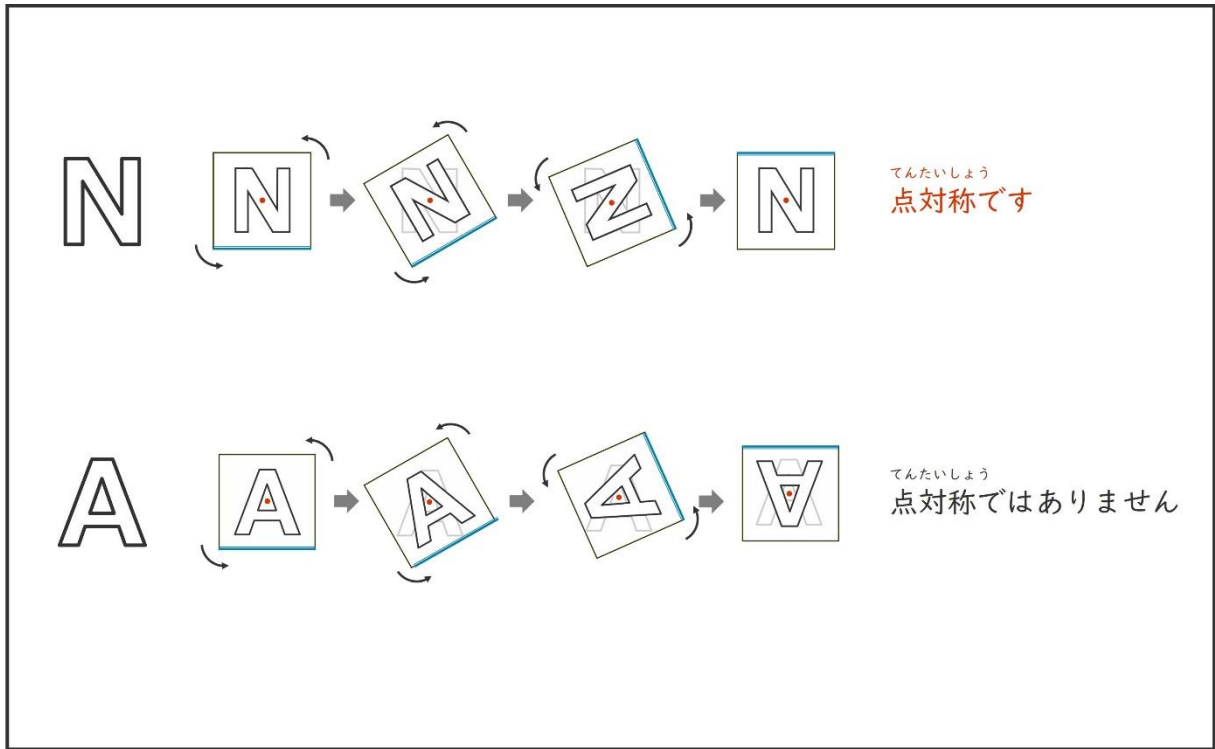
(1)

A F M  
N O R

(2)

K L P  
S U Z

たいしょう ずけい 5 こた  
 対称な図形⑤ 答え

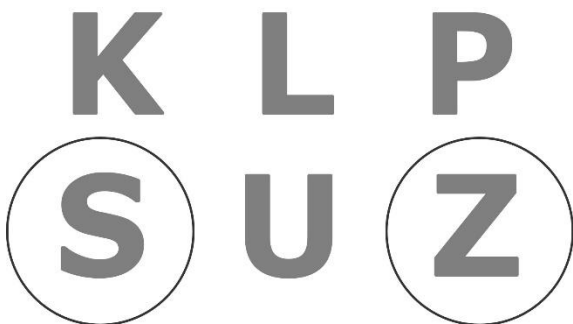


てんたいしょう  
 点対称なものはどれですか。

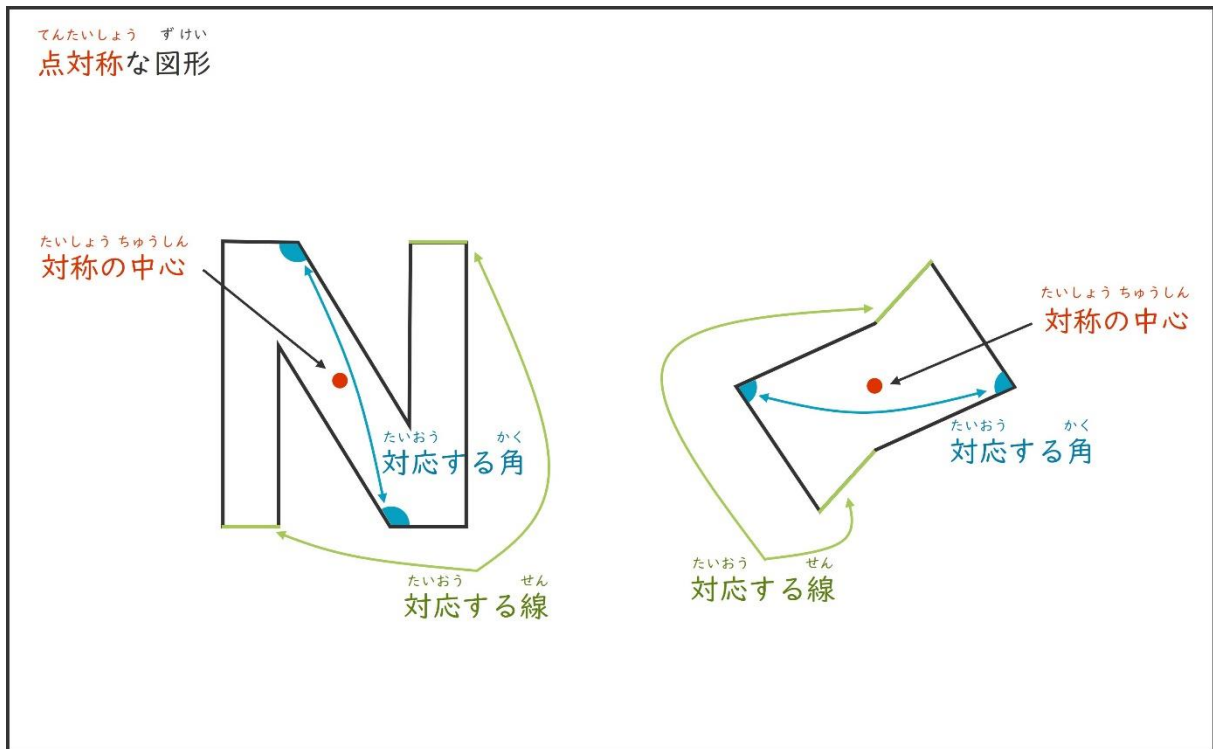
(1)



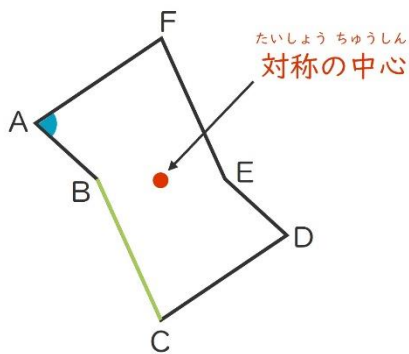
(2)



たいしょう ずけい  
対称な図形⑥



ずみこた  
図を見て答えましょう。



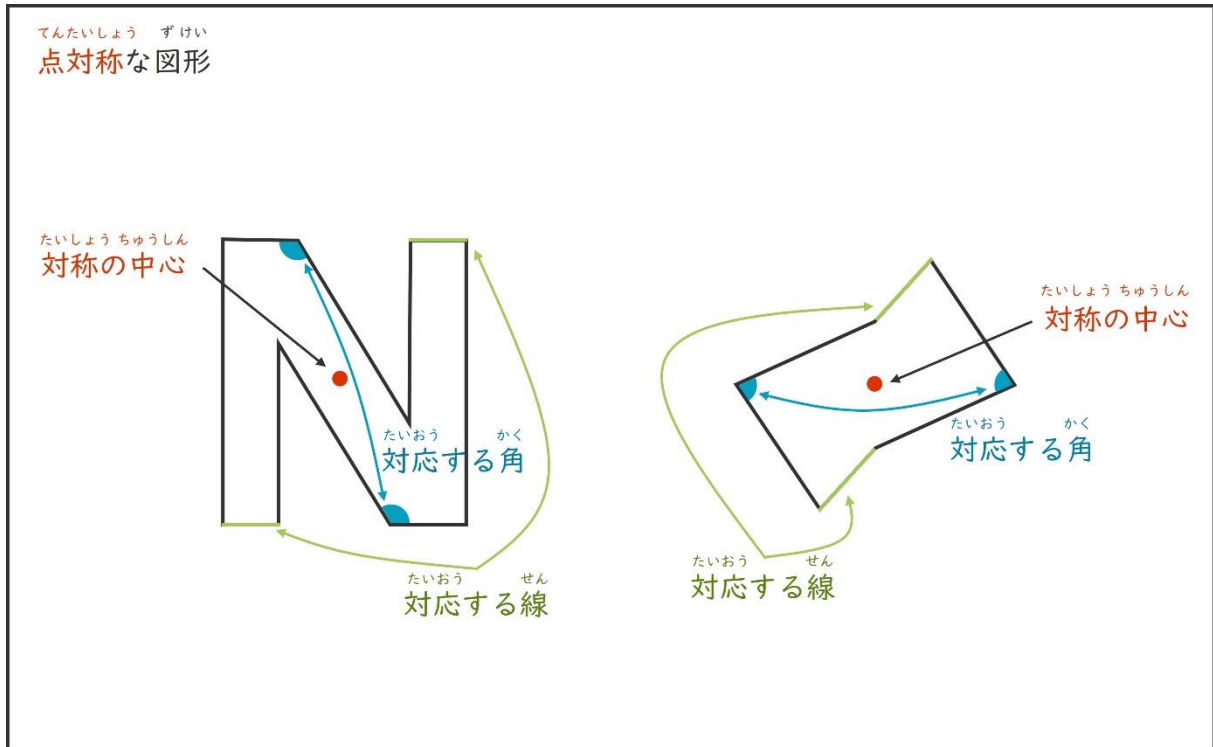
かく たいおう かく  
① 角A と対応する角はどれですか。

かく  
角

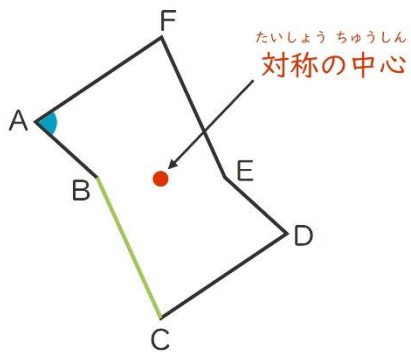
ちよくせん たいおう せん  
② 直線BC と対応する線はどれですか。

ちよくせん  
直線

たいしょう ずけい こと  
**対称な図形⑥ 答え**



ずみこと  
 図を見て答えましょう。



① かく たいおう かく  
 角A と対応する角はどれですか。

かく せん  
 角 D

② ちよくせん たいおう せん  
 直線BC と対応する線はどれですか。

ちよくせん せん  
 直線 EF

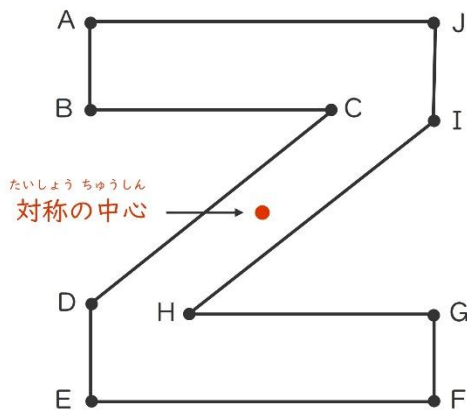
たいしょう ずけい  
対称な図形⑦

たいおう てん  
対応する点

たいおう てん  
A に対応する点は F       $AO = FO$   
 たいおう てん  
B に対応する点は G       $BO = GO$   
 たいおう てん  
C に対応する点は        $CO =$   
 に対応する点は I       = IO  
 たいおう てん  
E に対応する点は J       $EO = JO$

てん たいしょう ちゅうしん  
点Oは 対称の中心

たいおう てん  
対応する点はどれですか。



- たいおう てん  
A に対応する点は
- たいおう てん  
C に対応する点は
- たいおう てん  
D に対応する点は

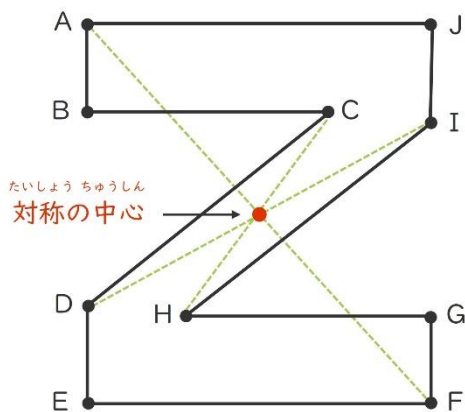
たいしょう ずけい ことた  
**対称な図形⑦ 答え**

たいおう てん  
 対応する点

たいおう てん  
 点Oは 対称の中心

A	に	対	應	す	る	点	は	F	AO = FO
B	に	対	應	す	る	点	は	G	BO = GO
C	に	対	應	す	る	点	は	H	CO = HO
D	に	対	應	す	る	点	は	I	DO = IO
E	に	対	應	す	る	点	は	J	EO = JO

たいおう てん  
 対応する点はどれですか。



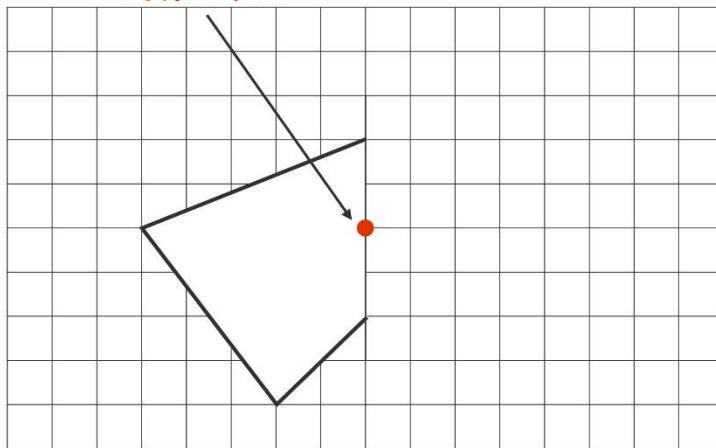
- |   |   |   |   |   |   |   |   |                                |
|---|---|---|---|---|---|---|---|--------------------------------|
| A | に | 対 | 應 | す | る | 点 | は | <input type="text" value="F"/> |
| C | に | 対 | 應 | す | る | 点 | は | <input type="text" value="H"/> |
| D | に | 対 | 應 | す | る | 点 | は | <input type="text" value="I"/> |

たいしょう ずけい  
対称な図形⑧

てんたいしょう ずけい

点対称な図形をかきましょう。

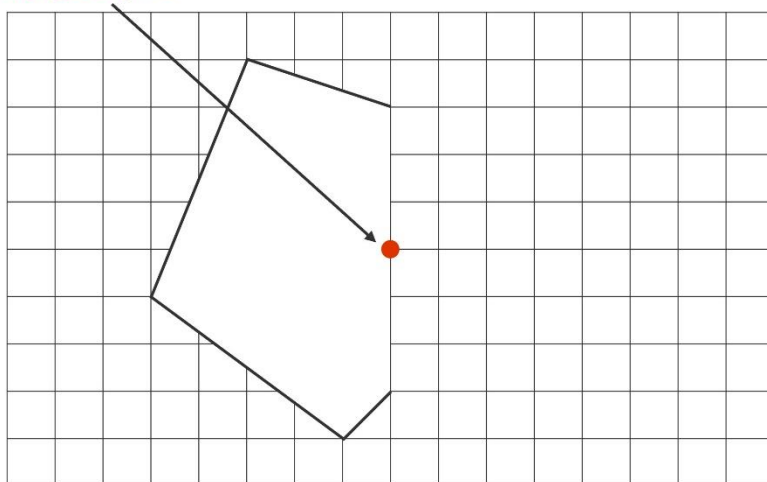
たいしょう ちゅうしん  
対称の中心



てんたいしょう ずけい

点対称な図形をかきましょう。

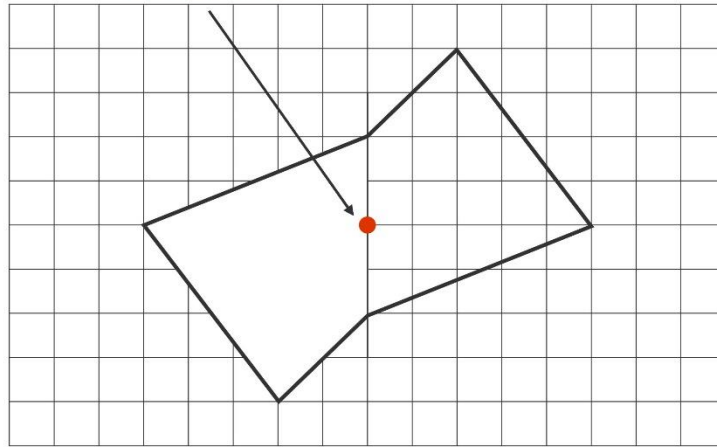
たいしょう ちゅうしん  
対称の中心



たいしょう ずけい 対称な図形⑧  
こた 答え

てんたいしょう ずけい  
点対称な図形をかきましょう。

たいしょう ちゅうしん  
対称の中心



てんたいしょう ずけい  
点対称な図形をかきましょう。

たいしょう ちゅうしん  
対称の中心

